

/20

الإسم:
 اللقب:
 القسم: 8 أساسي
 الرقم:

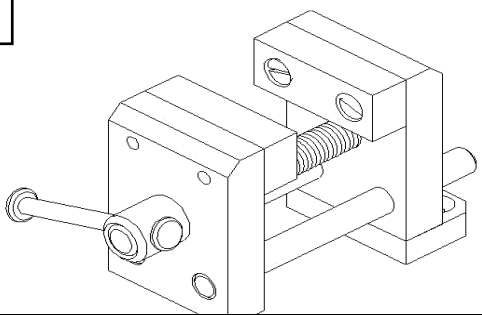
اختبار كتابي ع- 3 عدد
 - التربية التكنولوجية -

التوقيت: 30 دقيقة

المدرسة الاتحادية النموذجية
 الحفاف

الأستاذ: عبد الوهاب عربي
 التاريخ: 2011-05-07

/4

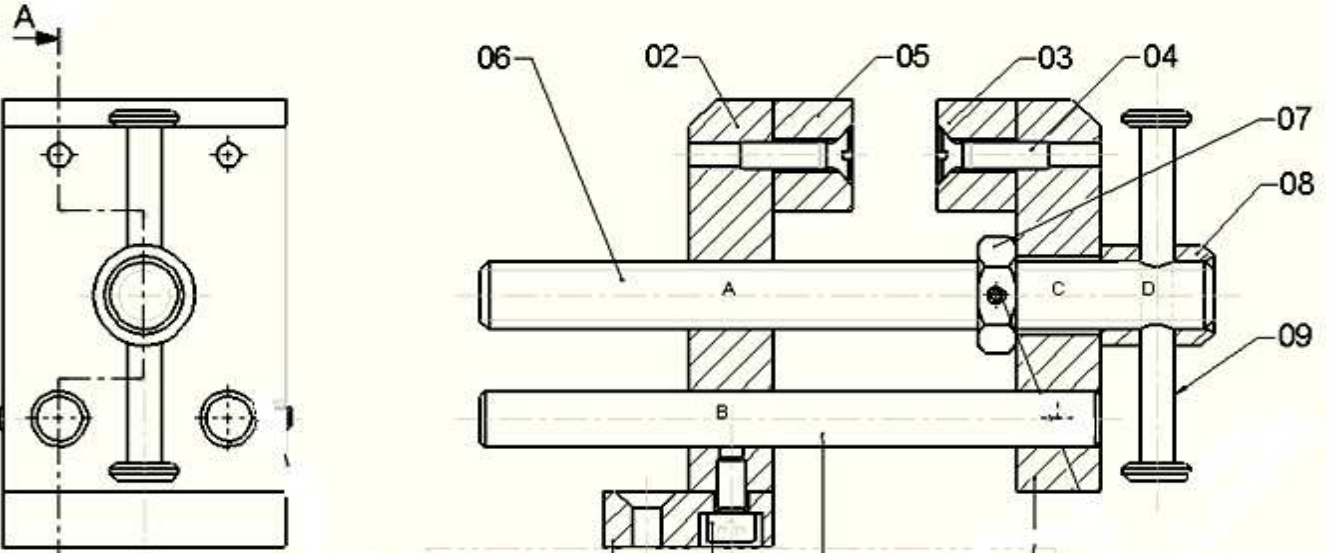


المنتج: ملزمة

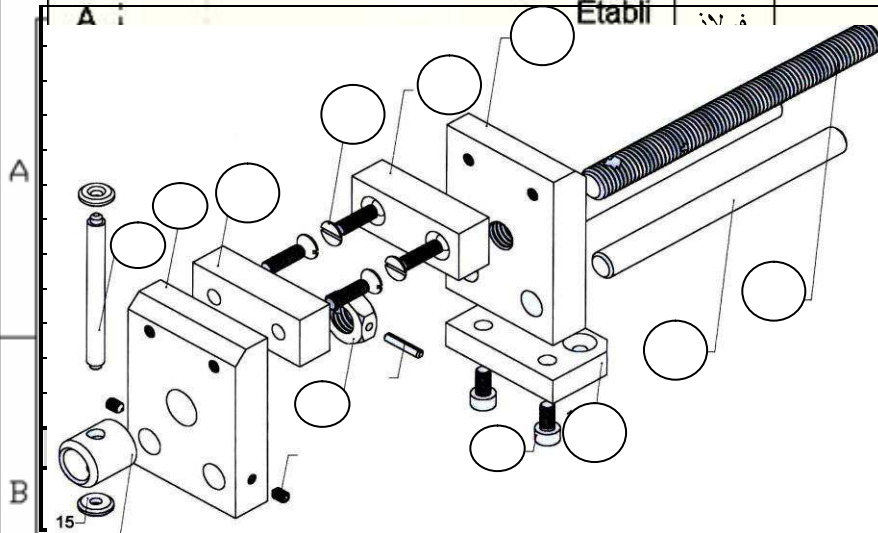
يستعمل المنتج لتثبيت القطع.

التعليمة 1:

الون على المسططين على الرسم الشامل للملزمة
 القطعة (1) بنفس اللون.



Etabli



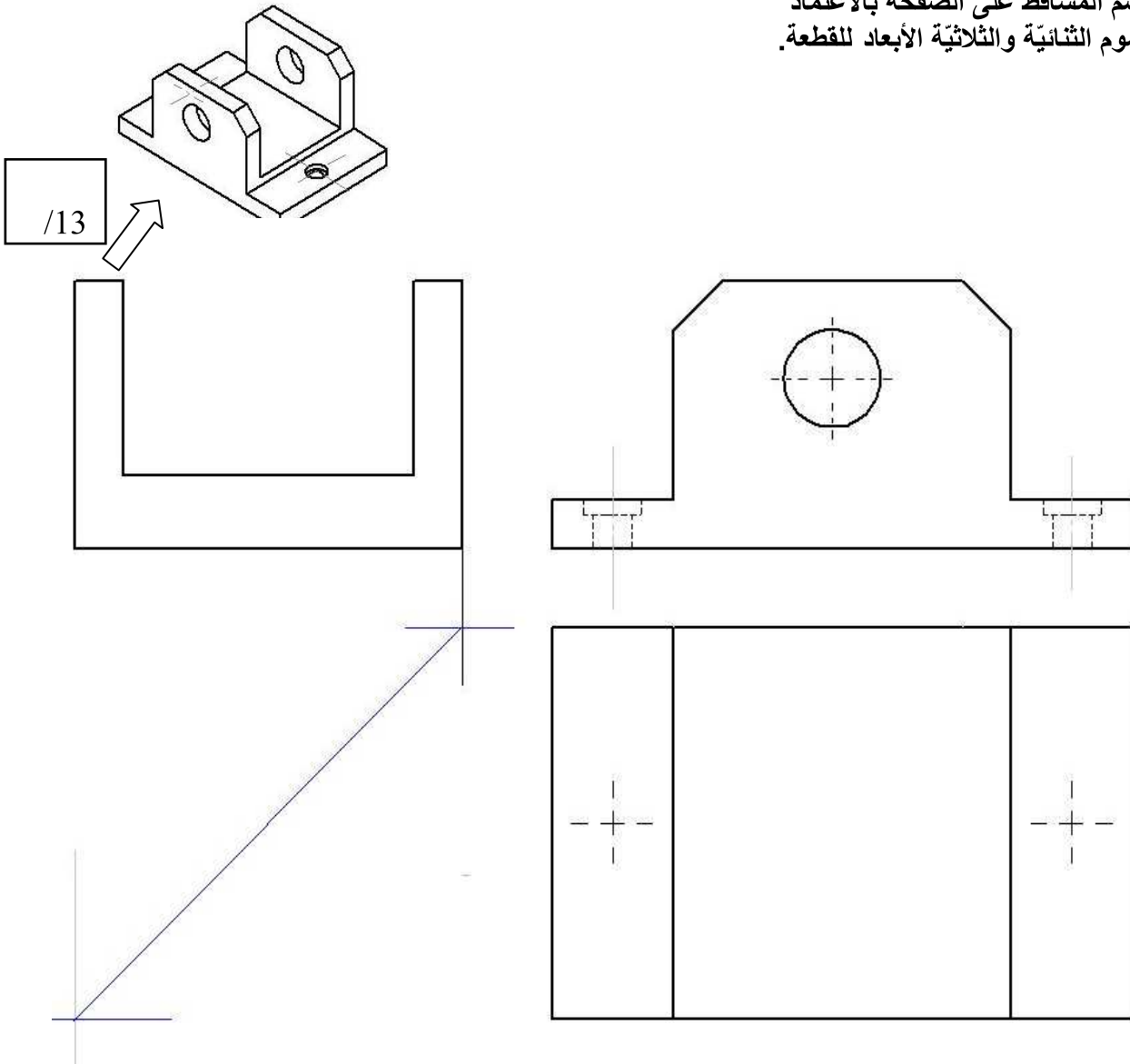
/3

ذراع القيادة	2	12
برغي	2	11
القاعدة	2	10
القطعة المكونة للملزمة	2	9
أقوم بتزجيم القطعة المكونة للملزمة	2	8
على الرسم الثلاثية الأبعاد المفك انطلقا	2	7
من الرسم الشامل للمنتج	2	6
برغي التحكم	1	5
وجه الفك الثابت	1	4
برغي التثبيت	4	3
وجه الفك المتحرك	1	2
فك ثابت	1	1
فك متحرك	1	1
الرقم	العدد	التسمية

التعليمة 3: تم تعويض القاعدة (10)

بالقطعة التالية. انظر الرسم.

- أتمم رسم المساقط على الصفحة بالاعتماد على الرسوم الثنائية والثلاثية الأبعاد للقطعة.



المدرسة الإعدادية النموذجية بالـ		
الاسم:.....	القاعدة	سلم : 1:1
اللقب:.....		